

## Курсовая работа на тему «Неопределенные и определенные интегралы»

### Часть 1. Вычисление интегралов

Найти неопределённые интегралы

1.  $\int x^2 \sqrt[5]{x^3 + 3} dx$ ;

**Решение.**

$$\begin{aligned} \int x^2 \sqrt[5]{x^3 + 3} dx &= \frac{1}{3} \int 3x^2 \sqrt[5]{x^3 + 3} dx = \frac{1}{3} \int \sqrt[5]{x^3 + 3} d(x^3) = \frac{1}{3} \int (x^3 + 3)^{1/5} d(x^3 + 3) = \\ &= \frac{1}{3} \frac{(x^3 + 3)^{1/5+1}}{1/5+1} + C = \frac{1}{3} \frac{(x^3 + 3)^{6/5}}{6/5} + C = \frac{5}{18} \sqrt[5]{(x^3 + 3)^6} + C. \end{aligned}$$

2.  $\int \frac{\sqrt[3]{\operatorname{tg} x}}{\cos^2 x} dx$ ;

**Решение.**

$$\begin{aligned} \int \frac{\sqrt[3]{\operatorname{tg} x}}{\cos^2 x} dx &= \left| m.k. (\operatorname{tg} x)' = \frac{1}{\cos^2 x} \right| = \int \sqrt[3]{\operatorname{tg} x} d(\operatorname{tg} x) = \int (\operatorname{tg} x)^{1/3} d(\operatorname{tg} x) = \\ &= \frac{(\operatorname{tg} x)^{1/3+1}}{1/3+1} + C = \frac{3}{4} (\operatorname{tg} x)^{4/3} + C = \frac{3}{4} \sqrt[3]{\operatorname{tg}^4 x} + C. \end{aligned}$$

3.  $\int \operatorname{tg} x dx$ ;

**Решение.**

$$\int \operatorname{tg} x dx = \int \frac{\sin x}{\cos x} dx = \left| m.k. (\cos x)' = -\sin x \right| = -\int \frac{1}{\cos x} d(\cos x) = -\ln |\cos x| + C.$$

4.  $\int \frac{e^x}{1+e^{2x}} dx$ ;

**Решение.**

$$\int \frac{e^x}{1+e^{2x}} dx = \int \frac{d(e^x)}{1+(e^x)^2} = \operatorname{arctg} e^x + C.$$

5.  $\int x \cos 2x dx$ ;

**Решение.** Интегрируем по частям:

$$\int x \cos(2x) dx = \left| \begin{array}{l} u = x \\ dv = \cos(2x) dx \\ du = dx \\ v = \frac{1}{2} \sin(2x) \end{array} \right| = \frac{1}{2} x \sin(2x) - \frac{1}{2} \int \sin(2x) dx =$$

$$= \frac{1}{2} x \sin(2x) + \frac{1}{4} \cos(2x) + C.$$

6.  $\int \frac{x^7}{(1+x^4)^2} dx;$

**Решение.**

$$\int \frac{x^7}{(1+x^4)^2} dx = \int \frac{x^4}{(1+x^4)^2} x^3 dx = \frac{1}{4} \int \frac{x^4}{(1+x^4)^2} (4x^3) dx = \frac{1}{4} \int \frac{x^4}{(1+x^4)^2} d(x^4) =$$

$$= \left| \text{замена } y = x^4 \right| = \frac{1}{4} \int \frac{y}{(1+y)^2} dy = \frac{1}{4} \int \frac{y+1-1}{(1+y)^2} dy = \frac{1}{4} \int \frac{y+1}{(1+y)^2} dy - \frac{1}{4} \int \frac{dy}{(1+y)^2} =$$

$$= \frac{1}{4} \int \frac{1}{(1+y)} d(y+1) - \frac{1}{4} \int \frac{d(y+1)}{(1+y)^2} = \frac{1}{4} \ln|y+1| + \frac{1}{4} \frac{1}{y+1} + C =$$

$$= \frac{1}{4} \ln|x^4+1| + \frac{1}{4} \frac{1}{x^4+1} + C.$$

7.  $\int \frac{dx}{\sqrt{x} + \sqrt[3]{x}};$

**Решение.** Делаем замену переменной:  $t = x^{1/6}$ ,  $x = t^6$ ,  $dx = 6t^5 dt$

$$\int \frac{dx}{\sqrt{x} + \sqrt[3]{x}} = \int \frac{6t^5}{t^3 + t^2} dt = 6 \int \frac{t^3}{t+1} dt =$$

Выделяем целую и дробную часть:

$$\begin{array}{r} t^3 \\ \underline{t^3 + t^2} \\ -t^2 \\ \underline{-t^2 - t} \\ t \\ \underline{t+1} \\ -1 \end{array}$$

Получили

$$= 6 \int \left( t^2 - t + 1 - \frac{1}{t+1} \right) dt = 2t^3 - 3t^2 + 6t - 6 \ln|t+1| + C =$$

$$= 2(\sqrt[6]{x})^3 - 3(\sqrt[6]{x})^2 + 6\sqrt[6]{x} - 6 \ln|\sqrt[6]{x}+1| + C = 2\sqrt{x} - 3\sqrt[3]{x} + 6\sqrt[6]{x} - 6 \ln|\sqrt[6]{x}+1| + C.$$

$$8. \int \frac{dx}{\sin^2 x \cos^2 x};$$

**Решение.**

$$\begin{aligned} \int \frac{dx}{\sin^2 x \cos^2 x} &= \int \frac{4dx}{4\sin^2 x \cos^2 x} = \int \frac{4dx}{(2\sin x \cos x)^2} = \int \frac{4dx}{(\sin 2x)^2} = \\ &= \int \frac{2d(2x)}{(\sin 2x)^2} = -2\operatorname{ctg}(2x) + C. \end{aligned}$$

$$9. \int \frac{5x^3 - 14x^2 + 16x - 24}{(x^2 + 4)(x - 2)^2} dx.$$

**Решение.** Разложим подынтегральное выражение на сумму элементарных дробей:

$$\frac{5x^3 - 14x^2 + 16x - 24}{(x^2 + 4)(x - 2)^2} = \frac{Ax + B}{x^2 + 4} + \frac{C}{x - 2} + \frac{D}{(x - 2)^2},$$

$$5x^3 - 14x^2 + 16x - 24 = (Ax + B)(x - 2)^2 + C(x^2 + 4)(x - 2) + D(x^2 + 4),$$

$$5x^3 - 14x^2 + 16x - 24 = A(x^3 - 4x^2 + 4x) + B(x^2 - 4x + 4) + C(x^3 - 2x^2 + 4x - 8) + D(x^2 + 4).$$

Приравниваем коэффициенты при одинаковых степенях  $x$  справа и слева.

$$\begin{cases} A + C = 5, \\ -4A + B - 2C + D = -14, \\ 4A - 4B + 4C = 16, \\ 4B - 8C + 4D = -24. \end{cases}$$
$$\begin{cases} A = 2 \\ B = 1 \\ C = 3 \\ D = -1. \end{cases}$$

$$\text{Получили } \frac{5x^3 - 14x^2 + 16x - 24}{(x^2 + 4)(x - 2)^2} = \frac{2x + 1}{x^2 + 4} + \frac{3}{x - 2} - \frac{1}{(x - 2)^2}$$

Интегрируем:

$$\begin{aligned} \int \frac{5x^3 - 14x^2 + 16x - 24}{(x^2 + 4)(x - 2)^2} dx &= \int \frac{2x + 1}{x^2 + 4} dx + \int \frac{3}{x - 2} dx - \int \frac{1}{(x - 2)^2} dx = \\ &= \int \frac{2xdx}{x^2 + 4} + \int \frac{1}{x^2 + 4} dx + 3\ln|x - 2| + \frac{1}{x - 2} = \\ &= \ln|x^2 + 4| + \frac{1}{2} \operatorname{arctg} \frac{x}{2} + 3\ln|x - 2| + \frac{1}{x - 2} + C. \end{aligned}$$

Вычислить определённые интегралы

$$10. \int_0^1 \arctg x dx;$$

**Решение.**

Сначала вычислим неопределенный интеграл, интегрируя по частям:

$$\begin{aligned} \int (\arctg x) dx &= \left| \begin{array}{l} u = \arctg x \quad du = \frac{dx}{1+x^2} \\ dv = dx \quad v = x \end{array} \right| = x \arctg x - \int \frac{x}{1+x^2} dx = \\ &= x \arctg x - \frac{1}{2} \int \frac{2x}{1+x^2} dx = x \arctg x - \frac{1}{2} \int \frac{d(1+x^2)}{1+x^2} = \\ &= x \arctg x - \frac{1}{2} \ln(1+x^2) + C. \end{aligned}$$

Тогда

$$\int_0^1 \arctg x dx = \left( \arctg x - \frac{1}{2} \ln(1+x^2) \right) \Big|_0^1 = \left( \arctg 1 - \frac{1}{2} \ln(1+1) \right) - \left( 0 - \frac{1}{2} \ln(1+0) \right) = \frac{\pi}{4} - \frac{1}{2} \ln 2.$$

$$11. \int_0^{\pi} \cos 2x \sin 3x dx.$$

**Решение.** Преобразуем подынтегральную функцию по известным формулам из тригонометрии:

$$\begin{aligned} \int_0^{\pi} \cos 2x \sin 3x dx &= \frac{1}{2} \int_0^{\pi} (\sin(3x-2x) + \sin(3x+2x)) dx = \frac{1}{2} \int_0^{\pi} (\sin x + \sin 5x) dx = \\ &= \frac{1}{2} \left( -\cos x - \frac{1}{5} \cos 5x \right) \Big|_0^{\pi} = \frac{1}{2} \left( -\cos \pi - \frac{1}{5} \cos 5\pi \right) - \frac{1}{2} \left( -\cos 0 - \frac{1}{5} \cos 0 \right) = \frac{1}{2} \left( 1 + \frac{1}{5} + 1 + \frac{1}{5} \right) = \frac{6}{5}. \end{aligned}$$

Вычислить несобственные интегралы или установить их расходимость

$$12. \int_e^{\infty} \frac{dx}{x \ln x};$$

**Решение.**

$$\begin{aligned} \int_e^{\infty} \left( \frac{1}{x \ln x} \right) dx &= \lim_{A \rightarrow +\infty} \int_e^A \left( \frac{1}{x \ln x} \right) dx = \lim_{A \rightarrow +\infty} \int_e^A \frac{d(\ln x)}{\ln x} = \lim_{A \rightarrow +\infty} (\ln(\ln x)) \Big|_e^A = \\ &= \lim_{A \rightarrow +\infty} [\ln(\ln A) - \ln(\ln e)] = \infty. \end{aligned}$$

Интеграл расходится.

$$13. \int_1^2 \frac{xdx}{\sqrt{x^2-1}}.$$

**Решение.**

$$\begin{aligned}\int_1^2 \frac{xdx}{\sqrt{x^2-1}} &= \lim_{\varepsilon \rightarrow 0} \int_{1+\varepsilon}^2 \frac{xdx}{\sqrt{x^2-1}} = \frac{1}{2} \lim_{\varepsilon \rightarrow 0} \int_{1+\varepsilon}^2 \frac{2xdx}{\sqrt{x^2-1}} = \frac{1}{2} \lim_{\varepsilon \rightarrow 0} \int_{1+\varepsilon}^2 \frac{d(x^2-1)}{\sqrt{x^2-1}} = \\ &= \lim_{\varepsilon \rightarrow 0} \left( \sqrt{x^2-1} \Big|_{1+\varepsilon}^2 \right) = \lim_{\varepsilon \rightarrow 0} \left( \sqrt{2^2-1} - \sqrt{(1+\varepsilon)^2-1} \right) = \sqrt{3}.\end{aligned}$$

Интеграл сходится.

Выяснить сходимость несобственных интегралов

14.  $\int_1^{\infty} \frac{x \cos x}{2+x^3} dx;$

**Решение.**

Это интеграл с неограниченным пределом. Исследуем подынтегральную функцию:

$$\frac{x \cos x}{2+x^3} \sim \frac{x}{2+x^3} \sim \frac{1}{x^2}, \quad x \rightarrow \infty \quad (\text{функция } \cos x \text{ ограничена и не влияет на поведение при } x \rightarrow \infty).$$

Подынтегральная функция является бесконечно малой порядка  $\lambda = 2 > 1$  по сравнению с  $1/x$ , поэтому интеграл сходится.

15.  $\int_0^1 \frac{xdx}{\sqrt{x} \sin^2 x}.$

**Решение.** Это интеграл с неограниченной функцией при  $x = 0$ . Исследуем подынтегральную функцию:

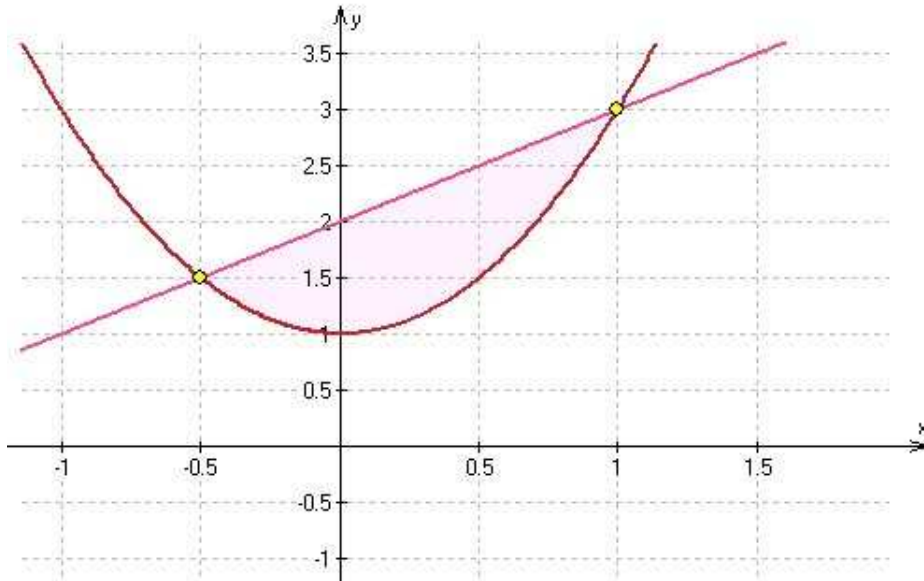
$$\frac{x}{\sqrt{x} \sin^2 x} = \frac{\sqrt{x}}{\sin^2 x} \sim \frac{\sqrt{x}}{x^2} = \frac{1}{x^{3/2}}, \quad x \rightarrow 0$$

Получаем, что подынтегральная функция является бесконечно большой при  $x \rightarrow 0$  порядка  $\lambda = 3/2 > 1$  по сравнению с  $\frac{1}{x}$ . По частному признаку сравнения данный интеграл расходится.

16. Найти площадь области, ограниченной кривыми

$$y = 2x^2 + 1, \quad y = x + 2.$$

**Решение.** Сделаем чертеж кривых (парабола и прямая линия), закрасим нужную область:



Получаем, что площадь равна:

$$S = \int_{-1/2}^1 (x+2-2x^2-1) dx = \int_{-1/2}^1 (x+1-2x^2) dx = \left( \frac{1}{2}x^2 + x - \frac{2}{3}x^3 \right) \Big|_{-1/2}^1 = \\ = \left( \frac{1}{2} + 1 - \frac{2}{3} \right) - \left( \frac{1}{2} \left( -\frac{1}{2} \right)^2 + \left( -\frac{1}{2} \right) - \frac{2}{3} \left( -\frac{1}{2} \right)^3 \right) = \frac{9}{8}.$$

17. Найти длину дуги кривой

$$x = 2 \cos t, \quad y = 2 \sin t, \quad z = t, \quad 0 \leq t \leq \pi.$$

**Решение.** Вычислим:

$$x' = -2 \sin t, \quad y' = 2 \cos t, \quad z' = 1,$$

$$dl = \sqrt{x'^2 + y'^2 + z'^2} dt = \sqrt{4 \sin^2 t + 4 \cos^2 t + 1} dt = \sqrt{4 + 1} dt = \sqrt{5} dt.$$

Тогда длина дуги равна:

$$L = \int_0^\pi \sqrt{5} dt = \sqrt{5} t \Big|_0^\pi = \sqrt{5} \pi.$$

## Часть 2. Кратные и криволинейные интегралы

1. Вычислить  $\iint_D (x+y) dx dy$ , если  $D$  - внутренность треугольника с вершинами в точках  $A(0,1), B(1,0), C(2,2)$ .

**Решение.** Сделаем чертеж треугольника, узнаем уравнения его сторон:

$AB$  :

$$\frac{x-0}{1-0} = \frac{y-1}{0-1},$$

$$-x = y-1,$$

$$y = 1-x.$$

$AC$  :

$$\frac{x-0}{2-0} = \frac{y-1}{2-1},$$

$$x = 2y-2,$$

$$y = \frac{1}{2}x+1.$$

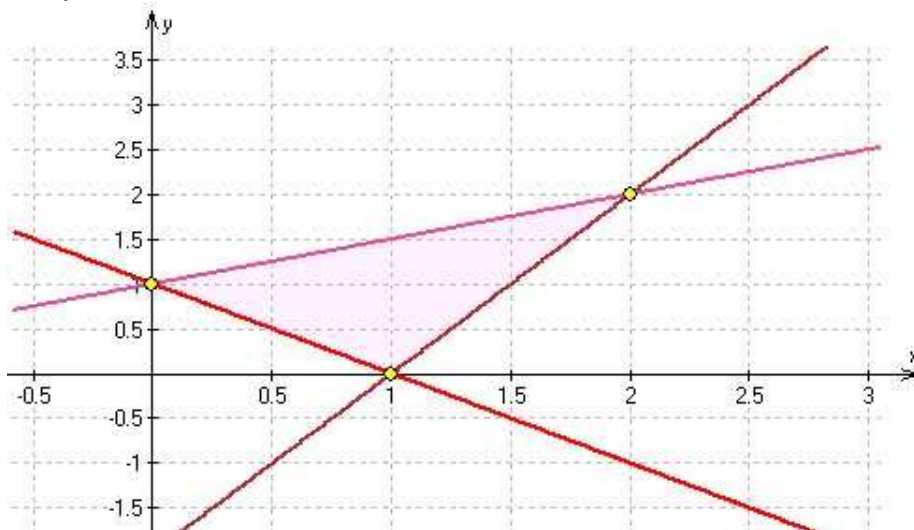
$BC$  :

$$\frac{x-1}{2-1} = \frac{y-0}{2-0},$$

$$2x-2 = y,$$

$$y = 2x-2.$$

Получаем:



Вычисляем интеграл:

$$\begin{aligned}
 \iint_D (x+y) dx dy &= \int_0^1 dx \int_{1-x}^{1/2x+1} (x+y) dy + \int_1^2 dx \int_{2x-2}^{1/2x+1} (x+y) dy = \\
 &= \int_0^1 dx \left( xy + \frac{1}{2} y^2 \right) \Big|_{1-x}^{1/2x+1} + \int_1^2 dx \left( xy + \frac{1}{2} y^2 \right) \Big|_{2x-2}^{1/2x+1} = \\
 &= \int_0^1 \left[ x \left( \frac{1}{2}x+1 \right) + \frac{1}{2} \left( \frac{1}{2}x+1 \right)^2 \right] - \left[ x(1-x) + \frac{1}{2} (1-x)^2 \right] dx + \\
 &+ \int_1^2 \left[ x \left( \frac{1}{2}x+1 \right) + \frac{1}{2} \left( \frac{1}{2}x+1 \right)^2 \right] - \left[ x(2x-2) + \frac{1}{2} (2x-2)^2 \right] dx = \\
 &= \int_0^1 \left[ \frac{9}{8} x^2 + \frac{3}{2} x \right] dx + \int_1^2 \left[ -\frac{27}{8} x^2 + \frac{15}{2} x - \frac{3}{2} \right] dx = \\
 &= \left[ \frac{3}{8} x^3 + \frac{3}{4} x^2 \right]_0^1 + \left[ -\frac{9}{8} x^3 + \frac{15}{4} x^2 - \frac{3}{2} x \right]_1^2 = \\
 &= \frac{3}{8} + \frac{3}{4} + \left( -\frac{9}{8} \cdot 8 + \frac{15}{4} \cdot 4 - \frac{3}{2} \cdot 2 \right) - \left( -\frac{9}{8} + \frac{15}{4} - \frac{3}{2} \right) = 3.
 \end{aligned}$$

## 2. Изменить порядок интегрирования

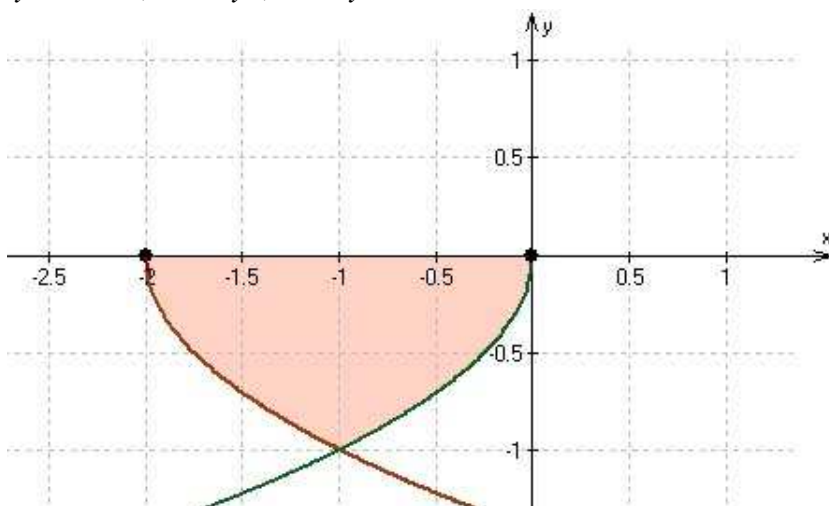
$$\int_{-2}^{-1} dx \int_{-\sqrt{2+x}}^0 f(x, y) dy + \int_{-1}^0 dx \int_{-\sqrt{-x}}^0 f(x, y) dy.$$

### Решение.

Сделаем чертеж области.

$$y = -\sqrt{2+x}, \Rightarrow x+2 = y^2, x = y^2 - 2.$$

$$y = -\sqrt{-x}, -x = y^2, x = -y^2.$$



Меняем порядок интегрирования:

$$\int_{-2}^{-1} dx \int_{-\sqrt{2+x}}^0 f(x, y) dy + \int_{-1}^0 dx \int_{-\sqrt{-x}}^0 f(x, y) dy = \int_{-1}^0 dy \int_{y^2-2}^{-y^2} f(x, y) dx.$$



3. Вычислить площадь области, заданной неравенствами  $x^2 + (y-r)^2 \leq r^2$ ,  $x \leq 0$ ,  $-2x+r \leq y$ , перейдя предварительно к полярным координатам.

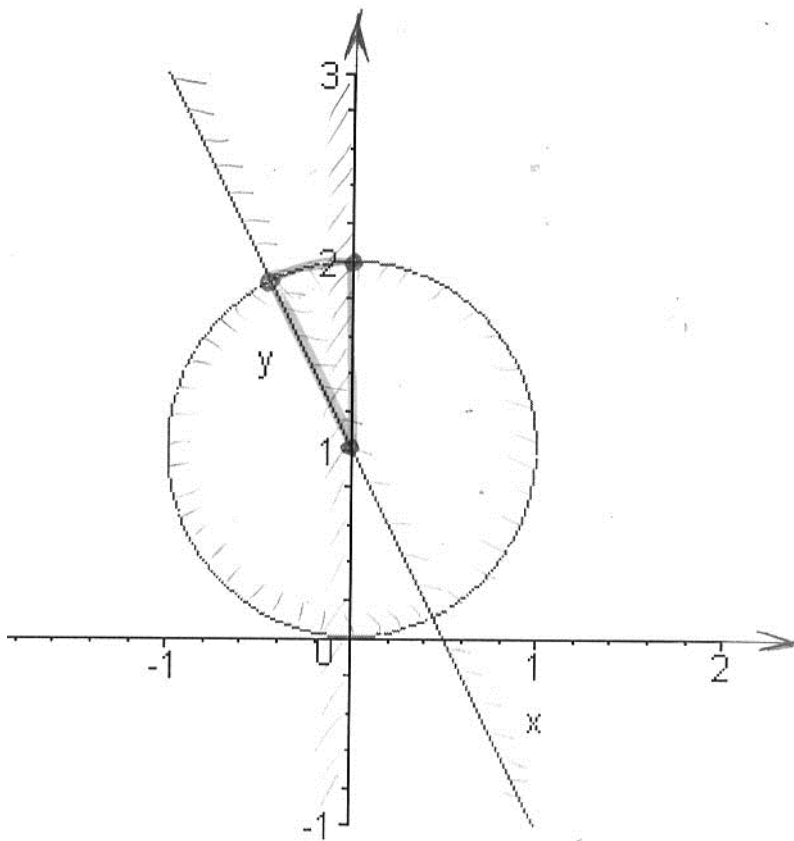
**Решение.**

Сделаем схематический чертеж области (положим  $r=1$  на чертеже).

$x^2 + (y-r)^2 \leq r^2$  - область внутри окружности радиуса  $r$  с центром  $(0; r)$ .

$x \leq 0$  - полуплоскость.

$-2x+r \leq y$ , - полуплоскость.



Переходим к полярным координатам.

$$\begin{cases} x = \rho \cos \varphi, \\ y - r = \rho \sin \varphi. \end{cases}$$

Тогда  $dxdy = \rho d\rho d\varphi$ ,  $\rho^2 = x^2 + (y-r)^2$ .

$$-2\rho \cos \varphi + r \leq \rho \sin \varphi + r,$$

$$-2 \cos \varphi \leq \sin \varphi,$$

$$\operatorname{tg} \varphi \leq -2.$$

Получаем:  $0 < \rho < r$ ,  $\pi/2 < \varphi < \pi - \operatorname{arctg} 2$ .

Площадь области:

$$S = \int_{\pi/2}^{\pi - \arctg 2} d\varphi \int_0^r \rho d\rho = \frac{1}{2} \left( \pi - \arctg 2 - \frac{\pi}{2} \right) \rho^2 \Big|_0^r = \frac{1}{2} \left( \frac{\pi}{2} - \arctg 2 \right) r^2.$$

4. Вычислить объём тела, ограниченного поверхностями

$$x = 0, z = 0, y = 3x, z = \sqrt{y}, y = 2.$$

**Решение.** Записываем объём тела как тройной интеграл, переходим к повторному и вычисляем:

$$V = \iiint_V dx dy dz = \iint_D dx dy \int_0^{\sqrt{y}} dz = \iint_D \sqrt{y} dx dy =$$

Здесь  $D$  - это проекция тела на плоскость  $xOy$ , треугольник, ограниченный линиями:  
 $x = 0, y = 3x, y = 2.$

$$= \iint_D \sqrt{y} dx dy = \int_0^{2/3} dx \int_{3x}^2 \sqrt{y} dy = \int_0^{2/3} dx \left. \frac{2}{3} \sqrt{y^3} \right|_{3x}^2 = \frac{2}{3} \int_0^{2/3} (\sqrt{8} - \sqrt{27x^3}) dx =$$

$$= \frac{2}{3} \int_0^{2/3} (2\sqrt{2} - 3\sqrt{3}x^{3/2}) dx = \frac{2}{3} \left( 2\sqrt{2}x - \frac{6\sqrt{3}}{5} x^{5/2} \right) \Big|_0^{2/3} = \frac{2}{3} \left( 2\sqrt{2} \frac{2}{3} - \frac{6\sqrt{3}}{5} \left( \frac{2}{3} \right)^{5/2} \right) =$$

$$= \frac{2}{3} \left( \sqrt{2} \frac{4}{3} - \frac{6\sqrt{2}}{5} \frac{4}{9} \right) = \frac{2}{3} \sqrt{2} \frac{4}{3} \left( 1 - \frac{2}{5} \right) = \frac{8}{15} \sqrt{2}.$$

5. Вычислить интеграл (в цилиндрических или сферических координатах)  $\iiint_V yx dx dy dz$ ,

где  $V$  - область, заданная неравенствами  $x^2 + y^2 + z^2 \leq 4, x^2 + y^2 + z^2 \geq 9, z \geq 0.$

**Решение.** Данное тело не существует, так как не может быть одновременно  $x^2 + y^2 + z^2 \leq 4$  и  $x^2 + y^2 + z^2 \geq 9.$

6. Найти работу силы  $f(x, y) = (x^2 - y)\mathbf{i} - (x - y)\mathbf{j}$  по перемещению точки вдоль участка кривой  $x = 2 \cos t, y = 2 \sin t, 0 \leq t \leq \frac{\pi}{2}.$

**Решение.** Работа силы равна криволинейному интегралу:

$$\begin{aligned}
 A &= \int_L (x^2 - y) dx + (y - x) dy = \int_0^{\pi/2} [(4 \cos^2 t - 2 \sin t)(-2 \sin t) + (2 \sin t - 2 \cos t) 2 \cos t] dt = \\
 &= 4 \int_0^{\pi/2} [-2 \cos^2 t \sin t + \sin^2 t + \sin t \cos t - \cos^2 t] dt = \\
 &= 4 \int_0^{\pi/2} \left[ -2 \cos^2 t \sin t + \frac{1}{2} \sin 2t - \cos 2t \right] dt = \\
 &= 8 \int_0^{\pi/2} \cos^2 t d(\cos t) + 2 \int_0^{\pi/2} \sin 2t dt - 4 \int_0^{\pi/2} \cos 2t dt = \\
 &= \frac{8}{3} \cos^3 t \Big|_0^{\pi/2} - \cos 2t \Big|_0^{\pi/2} - 2 \sin 2t \Big|_0^{\pi/2} = -\frac{8}{3} + 2 = -\frac{2}{3}.
 \end{aligned}$$

7. Проверить, что поле  $F = (6x + 7yz)\mathbf{i} + (6y + 7xz)\mathbf{j} + (6z + 7xy)\mathbf{k}$  потенциально и восстановить потенциал.

**Решение.** Проверим, будет ли поле потенциальным. Вычислим вихрь:

$$\begin{aligned}
 \text{rot } \bar{F} &= \begin{vmatrix} \bar{i} & \bar{j} & \bar{k} \\ \frac{\partial}{\partial x} & \frac{\partial}{\partial y} & \frac{\partial}{\partial z} \\ F_1 & F_2 & F_3 \end{vmatrix} = \begin{vmatrix} \bar{i} & \bar{j} & \bar{k} \\ \frac{\partial}{\partial x} & \frac{\partial}{\partial y} & \frac{\partial}{\partial z} \\ 6x + 7yz & 6y + 7xz & 6z + 7xy \end{vmatrix} = \\
 &= \bar{i} \left( \frac{\partial}{\partial y} (6x + 7xy) - \frac{\partial}{\partial z} (6y + 7xz) \right) - \bar{j} \left( \frac{\partial}{\partial x} (6z + 7xy) - \frac{\partial}{\partial z} (6x + 7yz) \right) + \\
 &+ \bar{k} \left( \frac{\partial}{\partial x} (6y + 7xz) - \frac{\partial}{\partial y} (6x + 7yz) \right) = \\
 &= \bar{i} (7x - 7x) - \bar{j} (7y - 7y) + \bar{k} (7z - 7z) = 0.
 \end{aligned}$$

Поле потенциально.

Следовательно, криволинейный интеграл  $\int_{A_0}^A P dx + Q dy + R dz$  по любому пути,

соединяющему две точки, не зависит от пути интегрирования. В качестве начальной точки интегрирования  $A_0$  выберем начало координат  $(0,0,0)$ . Конечную точку возьмем произвольную с координатами  $(x, y, z)$ . Наиболее простыми путями интегрирования являются возможные ломаные, состоящие из отрезков прямых, параллельных координатным осям. Получаем:

$$\begin{aligned}
 U(x, y, z) &= \int_{A_0}^A (f, \bar{dl}) = \int_0^x P(x, 0, 0) dx + \int_0^y Q(x, y, 0) dy + \int_0^z R(x, y, z) dz = \\
 &= \int_0^x (6x + 0) dx + \int_0^y (6y + 0) dy + \int_0^z (6z + 7xy) dz = 3x^2 + 3y^2 + 3z^2 + 7xyz.
 \end{aligned}$$

Таким образом, потенциал поля  $U(x, y, z) = 3x^2 + 3y^2 + 3z^2 + 7xyz + C$ .

8. Вычислить поток вектора  $f = x\mathbf{i} + 2y\mathbf{j} + z\mathbf{k}$  через часть поверхности  $x + y + 3z = 2$ , лежащую в первом октанте.

**Решение.** Поток вектора через поверхность равен поверхностному интегралу второго рода  $I = \iint_S xdydz + 2ydx dz + zdx dy$ . Будем проектировать поверхность (плоскость) на

плоскость  $xOy$ . Так как явное уравнение поверхности  $z = \frac{2-x-y}{3}$ , то  $z'_x = -\frac{1}{3}$ ,  $z'_y = -\frac{1}{3}$ .

Выбираем направление внешней нормали  $\left(\frac{1}{3}; \frac{1}{3}; 1\right)$ . Поэтому

$$I = \iint_D \left( x \left( \frac{1}{3} \right) + 2y \left( \frac{1}{3} \right) + \frac{2-x-y}{3} \right) dx dy = \frac{1}{3} \iint_D (x + 2y + 2 - x - y) dx dy = \\ = \frac{1}{3} \iint_D (y + 2) dx dy =$$

Теперь переходим к повторному интегралу на плоскости по области  $D$ , ограниченной линиями  $x = 0$ ,  $y = 0$ ,  $x + y = 2$ .

$$= \frac{1}{3} \int_0^2 dx \int_0^{2-x} (y + 2) dy = \frac{1}{3} \int_0^2 dx \left( \frac{1}{2} y^2 + 2y \right) \Big|_0^{2-x} = \frac{1}{3} \int_0^2 \left[ \left( \frac{1}{2} (2-x)^2 + 2(2-x) \right) - 0 \right] dx = \\ = \frac{1}{6} \int_0^2 [4 - 4x + x^2 + 8 - 4x] dx = \frac{1}{6} \int_0^2 [x^2 + 12 - 8x] dx = \frac{1}{6} \left( \frac{1}{3} x^3 + 12x - 4x^2 \right) \Big|_0^2 = \\ = \frac{1}{6} \left( \frac{1}{3} 8 + 24 - 16 \right) = \frac{16}{9}.$$

9. Вычислить поток вектора  $f = x^2\mathbf{i} + 2y\mathbf{j} + z\mathbf{k}$  через замкнутую поверхность  $z = x^2 + y^2$ ,  $z = 1$ .

**Решение.** Используем формулу Остроградского-Гаусса:

$$\Pi = \oiint_S \vec{f} \cdot \vec{ndS} = \iiint_V \operatorname{div} \vec{f} dV.$$

Вычисляем дивергенцию поля:

$$\operatorname{div} \vec{f} = \frac{\partial}{\partial x} (x^2) + \frac{\partial}{\partial y} (2y) + \frac{\partial}{\partial z} (z) = 2x + 2 + 1 = 2x + 3.$$

Тогда поток равен:

$$\Pi = \oiint_S \vec{f} \cdot \vec{ndS} = \iiint_V \operatorname{div} \vec{f} dV = \iiint_V (2x + 3) dV =, \text{ где } V - \text{ тело, ограниченное снизу}$$

параболоидом  $z = x^2 + y^2$ , сверху плоскостью  $z = 1$ . Проекция тела  $D$  на плоскость  $xOy$  - это круг  $x^2 + y^2 = 1$  радиуса 1.

Продолжаем преобразования:

$$= \iint_D (2x + 3) dx dy \int_{x^2+y^2}^1 dz = \iint_D (2x + 3) (1 - x^2 - y^2) dx dy =$$

Переходим к полярным координатам:

$$\begin{cases} x = r \cos \varphi, \\ y = r \sin \varphi. \end{cases}$$

Тогда  $dxdy = r dr d\varphi$ ,  $r^2 = x^2 + y^2$ .

Ограничения:  $0 < r < 1$ ,  $0 < \varphi < 2\pi$ .

Получаем:

$$\begin{aligned} &= \iint_D (2r \cos \varphi + 3)(1 - r^2) r dr d\varphi = \iint_D (2r \cos \varphi + 3)(r - r^3) dr d\varphi = \\ &= \iint_D (2r^2 \cos \varphi + 3r - 2r^4 \cos \varphi - 3r^3) dr d\varphi = \\ &= \int_0^{2\pi} d\varphi \int_0^1 (2r^2 \cos \varphi + 3r - 2r^4 \cos \varphi - 3r^3) dr = \int_0^{2\pi} d\varphi \left( \frac{2}{3} r^3 \cos \varphi + \frac{3}{2} r^2 - \frac{2}{5} r^5 \cos \varphi - \frac{3}{4} r^4 \right) \Big|_0^1 = \\ &= \int_0^{2\pi} \left( \frac{2}{3} \cos \varphi + \frac{3}{2} - \frac{2}{5} \cos \varphi - \frac{3}{4} \right) d\varphi = \int_0^{2\pi} \left( \frac{4}{15} \cos \varphi + \frac{3}{4} \right) d\varphi = \left( \frac{4}{15} \sin \varphi + \frac{3}{4} \varphi \right) \Big|_0^{2\pi} = \frac{3}{4} 2\pi = \frac{3}{2} \pi. \end{aligned}$$

## Список литературы

- 1) Берман Г.Н. Сборник задач по курсу математического анализа: учеб.-практ. Пособие/ Г.Н. Берман. – СПб.: Профессия, 2001.
- 2) Высшая математика для экономистов. Под редакцией Кремера Н.Ш.- Москва: ЮНИТИ, 2000.
- 3) Зорич, В.А. Математический анализ: в 2 т./ В.А. Зорич. – М.: Наука, 1984.
- 4) Кудрявцев В.А., Демидович Б.П. Краткий курс высшей математики. – М.: Наука, - 1989, 656с.
- 5) Сборник задач по математике для вузов. Специальные разделы математического анализа / под ред. А.В.Ефимова, Б.П. Демидовича. - М.: Наука, 2001. - 368 с.
- 6) Фихтенгольц, Г.М. Курс дифференциального и интегрального исчисления/ Г.М. Фихтенгольц. – М.:Физматгиз,1962.